



ESCUELA NORMAL SUPERIOR MARÍA AUXILIADORA

*Maestras para el siglo XXI con Ética Cristiana y Pensamiento Creativo*

**Área:** Educación artística-música

**Grado:** 7<sup>o</sup>

**Maestro:** Fabio Andrés Porras Quintana

**Tiempo estimado de ejecución en horas:** 3 horas (3 semanas)

**Propósito:** Mediante la presente guía las estudiantes aprenderán a ubicar las notas musicales de manera correcta en cada una de las líneas y espacios del pentagrama.

**Descripción de la actividad:** Utilizando un lápiz, se desarrollará cada una de las actividades siguiendo la indicación de cada punto.




ESCUELA NORMAL SUPERIOR MARÍA AUXILIADORA


*Maestras para el siglo XXI con Ética Cristiana y Pensamiento Creativo*

## PENTAGRAMA


**Pentagrama** es el lugar donde se escribe la música.



El pentagrama tiene **cinco líneas** que se cuentan de abajo hacia arriba:




Y tiene cuatro **espacios** que se cuentan de abajo hacia arriba:




## EJERCICIOS



Numera las líneas del siguiente pentagrama:



Numera los espacios del siguiente pentagrama:





Pinta las líneas de lado a lado de los siguientes colores: 1ª roja; 2ª azul; 3ª amarilla; 4ª verde y 5ª negra. Pinta los espacios de los siguientes colores: 1º verde; 2º rojo, 3º azul y 4º amarillo.



## CLAVE DE SOL

**Clave de sol** nos indica que la nota sol está colocada en la segunda línea del pentagrama.

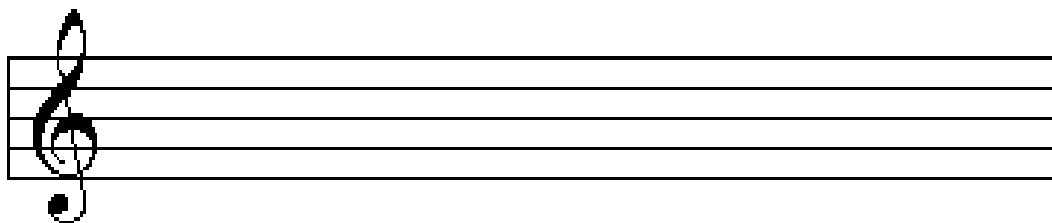


## EJERCICIOS

Aprende a dibujar la clave de sol:

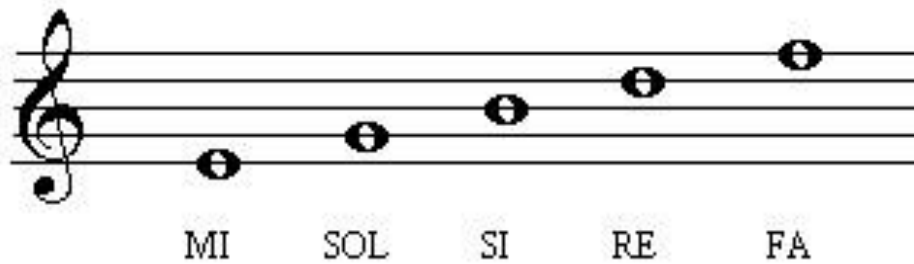


Sigue colocando claves de sol:

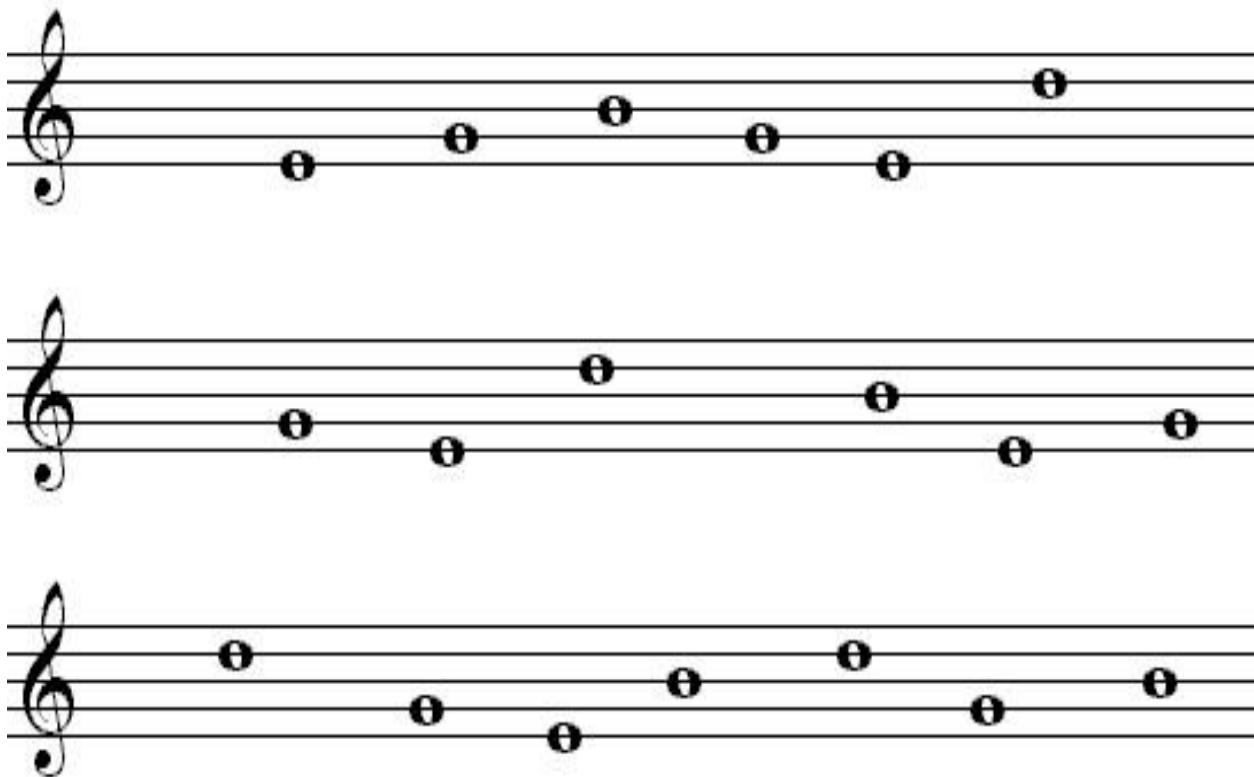


## NOMBRES DE LAS NOTAS



Los nombres de las notas que se colocan sobre las líneas son:






Coloca el nombre debajo de las siguientes notas:



Coloca el nombre debajo de las notas:



ESCRIBE EL NOMBRE DEBAJO DE CADA NOTA






## NOMBRES DE LAS NOTAS EN LOS ESPACIOS





## EJERCICIOS







Escribir debajo de estas notas los nombres que les corresponden:



ESCRIBIR EL NOMBRE DEBAJO DE CADA NOTA



Coloca el nombre debajo de las siguientes notas:



CONTESTA A LAS SIGUIENTES PREGUNTAS

1. ¿Cuántas líneas tiene el Pentagrama o pauta?

.....

2. ¿Cuál es el nombre de la nota que se escribe en la primera línea?

.....

3. ¿Cuál es el nombre de la nota que se escribe en la última línea?

.....

4. ¿Cuántos espacios tiene el pentagrama?

.....


5. ¿Cuál es el nombre de la nota que se escribe en el primer espacio?

.....

6. ¿Cuál es el nombre de la nota que se escribe en el último espacio?

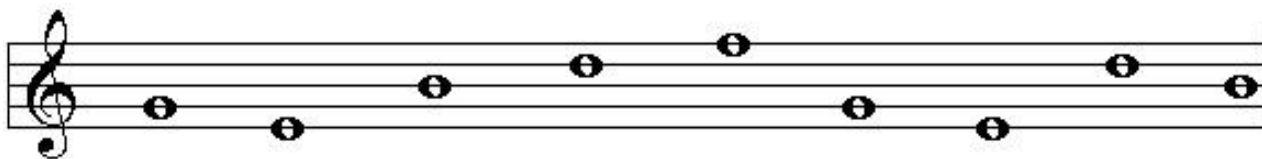
.....

NOMBRES DE LAS NOTAS QUE SE ENCUENTRAN DENTRO DEL PENTAGRAMA



EJERCICIOS

Escribe el nombre debajo de cada nota: *Líneas*




*Espacios*




*Líneas y espacios*



ESCRIBE EL NOMBRE DEBAJO DE CADA NOTA




## NOMBRES DE LAS NOTAS EN LOS ESPACIOS





## EJERCICIOS

Escribir debajo de estas notas los nombres que les corresponden:







ESCRIBIR EL NOMBRE DEBAJO DE CADA NOTA





Coloca el nombre debajo de las siguientes notas:



CONTESTA A LAS SIGUIENTES PREGUNTAS

7. ¿Cuántas líneas tiene el Pentagrama?

.....

8. ¿Cuál es el nombre de la nota que se escribe en la primera línea?

.....

9. ¿Cuál es el nombre de la nota que se escribe en la última línea?

.....

10. ¿Cuántos espacios tiene el pentagrama?

.....


11. ¿Cuál es el nombre de la nota que se escribe en el primer espacio?

.....

12. ¿Cuál es el nombre de la nota que se escribe en el último espacio?


.....

NOMBRES DE LAS NOTAS QUE SE ENCUENTRAN DENTRO DEL PENTAGRAMA



EJERCICIOS

Escribe el nombre debajo de cada nota: *Líneas*



*Espacios*



*Líneas y espacios*



ESCRIBE EL NOMBRE DEBAJO DE CADA NOTA

